



Juegos Matemáticos



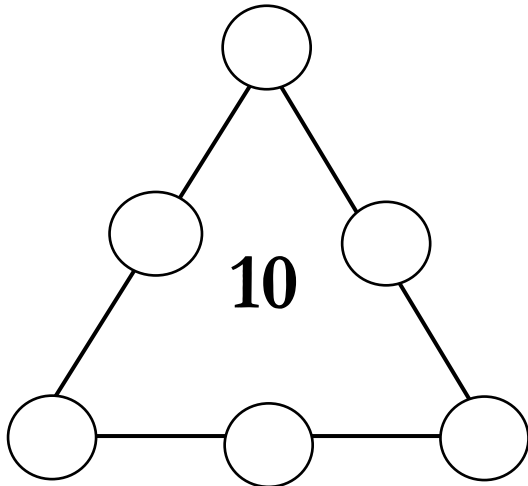
CLIL: Spanish Maths



Otoño 2016

» Triángulo Mágico

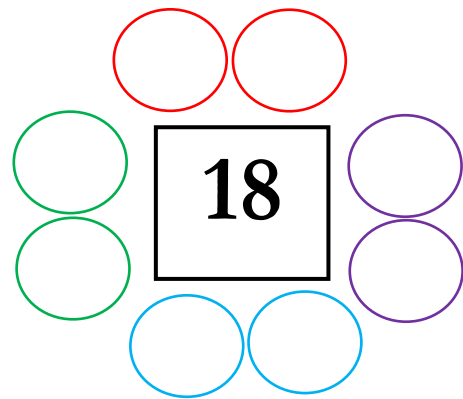
Usa solamente los números **1, 2, 3, 4, 5** y **6** para que todos los lados del triángulo sumen (+) **10**.



» Números Pares

Convina los números para que todos sumen (+) **18**.

Sólo puedes usar los siguientes números pares: **2, 4, 6, 8, 10, 12, 14** y **16**.



» Cuadrados Mágico


Utiliza números del 1 al 9 para que sumándolos (+) tengas como resultado la cifra que se indica.

		15
		13
14	14	

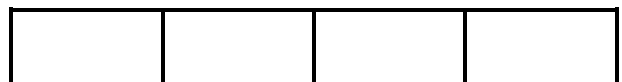
		8
		13
10	11	

» ¿Cuántos rectángulos hay?

¿Cuántos rectángulos puedes encontrar en las siguientes figuras geométricas?



Hay _____ rectángulos.



Hay _____ rectángulos.

