

Pohdi ja päättel!

1.

- Kerttu on Emmaa nopeampi.
- Tiia hävisi täpärästi pronssimitalin.
- Helmi hävisi Tiialle. Annia ei voittanut kukaan.

Kuka lapsista oli viimeinen?

- a) Anni
- b) Emma
- c) Kerttu
- d) Helmi
- e) Tiia

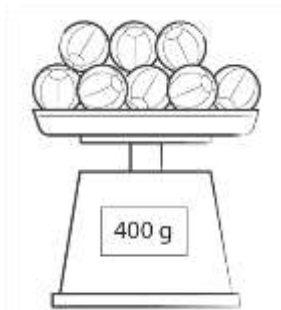
2.

- Nella on lyhyempi kuin Ruusu, mutta pidempi kuin Linnea.
- Fanni on lyhyempi kuin Linnea.
- Vappu on pidempi kuin Ruusu, mutta lyhyempi kuin Iina.

Kuka lapsista on lyhin?

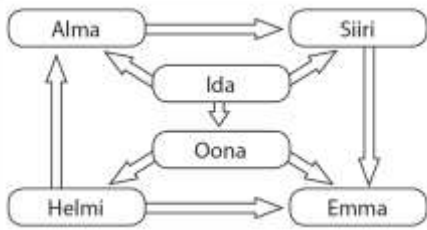
- a) Nella
- b) Vappu
- c) Ruusu
- d) Linnea
- e) Fanni
- f) Iina

3. Kuinka monta palloa pitää poistaa, jotta vaaka näyttää 250g?



- a) 2
- b) 3
- c) 4
- d) 5

4. Nuoli osoittaa aina nuorempaan päin. Kuka lapsista on vanhin?



- a) Ida
- b) Oona
- c) Siiri
- d) Emma
- e) Helmi
- f) Alma

5. Päättele aloitusluku.



- a) 72
- b) 4
- c) 16
- d) 8

6.

- Veli söi mansikoista kolmasosan.
- Niko söi lopuista puolet.
- Isälle jäi viisi mansikkaa.

Päättele, kuinka monta mansikkaa oli alun perin.

- a) 60
- b) 30
- c) 12
- d) 15

7. Kuvassa on kymmenesosa Mikan rahoista. Kuinka paljon rahaa hänellä on kaikkiaan?



- a) 16 €
- b) 30 €
- c) 60 €
- d) 300 €

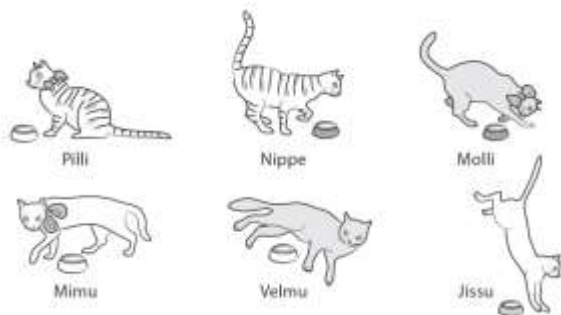
8.

- Nooran taimi on nyt 7 cm pitkä ja kasvaa 4 cm viikossa.
- Uunon taimi on nyt 5 cm pitkä ja kasvaa 6 cm viikossa.
- Ruusun taimi on nyt 9 cm pitkä ja kasvaa 3 cm viikossa.

Kenen taimi on kolmen viikon kuluttua korkein?

- a) Noora
- b) Uuno
- c) Ruusu

9. Mitä kissaa tarkoitetaan?



- Sillä on rusetti.
- Sillä ei ole harmaata kuppia.
- Sillä on viiruja

- a) Pilli
- b) Nippe
- c) Molli
- d) Mimmu
- e) Velmu
- f) Jissu

10. Päättele luku.



Kun vähennän
luvustani 6, saan
saman vastauksen kuin
lukujen 5 ja 4 tulo.

- a) 15
- b) 16
- c) 20
- d) 26

VASTAUKSET:

1. D Helmi
2. E Fanni
3. B 3
4. A Ida
5. D 8
6. D 15
7. C 60 €
8. B Uuno
9. A Pilli
10. D 26